



Ficha de restas con objetos 2º primaria

Observa los objetos, resta y escribe el resultado en el recuadro.

Nombre: _____

Fecha: _____

(1)




-




=

(2)



-



=

(3)



-



=

(4)




-



=

(5)



-



=

