



Ficha de sumas con dibujos 1º primaria

Observa los objetos, suma y escribe el resultado en el recuadro.

Nombre: _____

Fecha: _____

(1)



+



=

(2)



+



=

(3)




+




=

(4)




+



=

(5)



+



=

