




Ficha de sumas con dibujos 2º primaria

Observa los objetos, suma y escribe el resultado en el recuadro.


Nombre: _____

Fecha: _____



(1)

 +  =

(2)

 +  =

(3)

 +  =

(4)

 +  =

(5)

 +  =